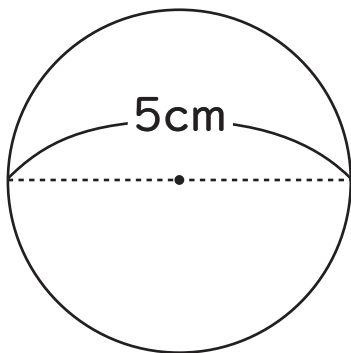


● 次の円の円周の長さを求めましょう。

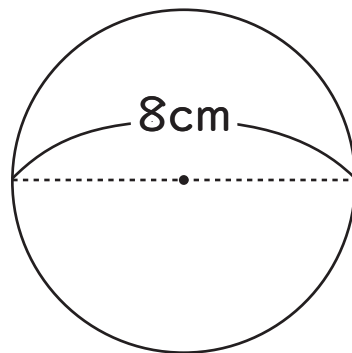
1



$$5 \times 3.14 = 15.7$$

( 15.7cm )

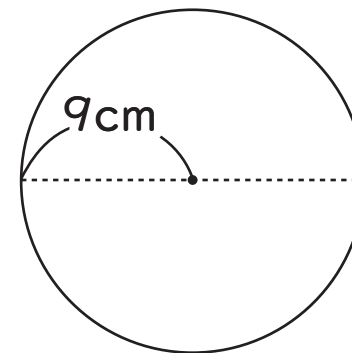
2



$$8 \times 3.14 = 25.12$$

( 25.12cm )

3



$$9 \times 2 \times 3.14 = 56.52$$

( 56.52cm )

4 直径 2cm の円

$$2 \times 3.14 = 6.28$$

( 6.28cm )

5 直径 4cm の円

$$4 \times 3.14 = 12.56$$

( 12.56cm )

6 半径 7cm の円

$$7 \times 2 \times 3.14 = 43.96$$

( 43.96cm )